

QUESTÃO 1

Segundo o IBGE, aglomerado subnormal “é um conjunto constituído de, no mínimo, 51 unidades habitacionais (barracos, casas, etc.) carentes, em sua maioria, de serviços públicos essenciais. O conceito de aglomerado subnormal foi utilizado pela primeira vez no Censo Demográfico 1991. Possui certo grau de generalização, de forma a abarcar a diversidade de assentamentos existentes no País, conhecidos como: favela, invasão, grota, baixada, comunidade, vila, ressaca, mocambo, palafita, entre outros”.

Aglomerados subnormais. IBGE, 2011. Adaptado.



Censo Demográfico 2010. Aglomerados subnormais. IBGE, 2011.

Com base no texto e no mapa,

- a) identifique duas características dos aglomerados subnormais, sendo uma relativa à questão fundiária e outra ao padrão de urbanização;
- b) explique a concentração espacial dos aglomerados subnormais na região Sudeste e o processo que levou a essa concentração.

Resposta

a) A favela é um exemplo de aglomerado subnormal relacionado com a questão fun-

diária, pois parte da ocupação de terrenos públicos e privados.

Os cortiços estão ligados ao padrão de urbanização, sendo resultado da degradação de parcelas do espaço urbano.

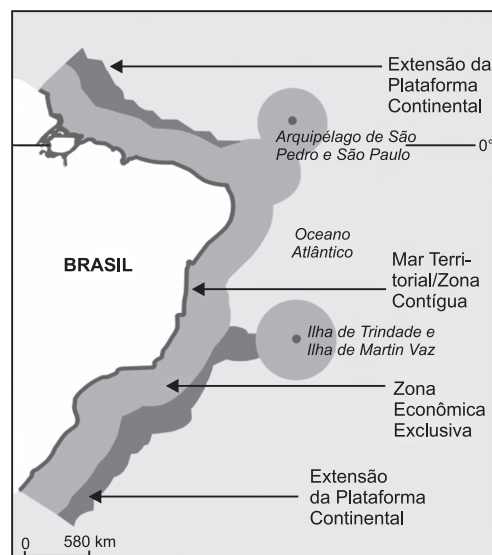
b) A região Sudeste, sobretudo nas suas regiões metropolitanas (São Paulo, Campinas, Rio de Janeiro e Belo Horizonte), desde a década de 1950 tem uma pressão migratória que provoca uma grande demanda por moradia, acima das ofertas. Com isso, o custo dos imóveis e dos aluguéis dispara, empurrando milhares de pessoas para os aglomerados subnormais.

QUESTÃO 2

A Convenção das Nações Unidas sobre Direito do Mar estabelece as linhas de base a partir das quais passam a ser contados o mar territorial, a zona contígua, a zona econômica exclusiva e o limite exterior da plataforma continental, bem como os critérios para o delineamento do limite exterior da plataforma.

www.marinha.mil.br. Acesso em 30/10/2014.

Adaptado.



www.marinha.mil.br. Acesso em 30/10/2014.

Adaptado.

Com base nessa Convenção, da qual o Brasil é signatário, o governo brasileiro propôs às Nações Unidas a ampliação do limite exterior de sua plataforma continental para até 350 milhas náuticas (648 km), o que resultaria em uma área total com cerca de 4,4 milhões de quilômetros quadrados, a qual vem sendo chamada pela Marinha do Brasil de “Amazônia Azul”.

Considerando o mapa e seus conhecimentos, **a)** explique a importância geoestratégica da delimitação de áreas/zonas marítimas para as nações litorâneas;

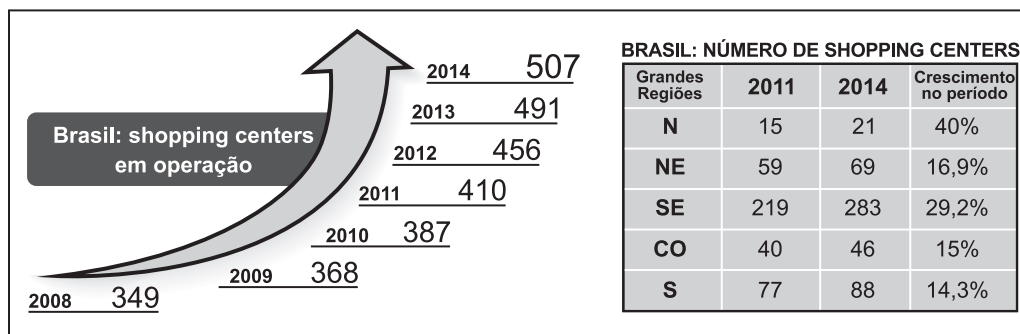
b) identifique e explique duas razões da importância econômica da chamada Amazônia Azul para o Brasil.

Resposta

a) A delimitação das áreas marítimas para as nações litorâneas é importante para a defesa (soberania) e exploração econômica.

b) A importância econômica da Amazônia Azul para o Brasil se apoia na pesca e na extração de petróleo e gás natural.

QUESTÃO 3



Geonotícias, nº 21, Shopping Centers. www.ibope.com.br/pt-br. Acesso em 20/10/2014.

Com base nas informações acima e em seus conhecimentos, identifique

a) dois fatores responsáveis pelo crescimento do número de *shopping centers* no Brasil entre 2008 e 2014.

b) duas tendências da distribuição geográfica dos *shopping centers* pelas diferentes regiões brasileiras, considerando o crescimento no período 2011-2014. Justifique sua resposta.

Resposta

a) Entre 2008 e 2014 o crescimento dos shopping centers esteve ligado ao aquecimento do mercado interno brasileiro, provocado pela elevação dos níveis de emprego e renda dos trabalhadores.

b) A região Norte apresentou um crescimento do número de consumidores entre 2011 e 2014, ligado à expansão das políticas de incremento de renda. No Sudeste, a urbanização provocou o crescimento da demanda, levando à expansão dos shopping centers.

QUESTÃO 4

Observe o mapa.



Atlas Geográfico Escolar. IBGE, 2012.

Com base no mapa e em seus conhecimentos sobre os EUA,

- aponte duas razões da importância geopolítica desse país, na atualidade, considerando sua localização e dimensão territorial;
- explique a importância econômica, para esse país, da região circundada no mapa, considerando os recursos naturais e os aspectos humanos.

Resposta

- Os Estados Unidos, um país continental, localizado no Atlântico norte, faz fronteira com o Canadá, México e os oceanos Pacífico, Atlântico e Ártico. Tais aspectos, somados ao seu poderio econômico, tecnológico e militar, fazem dele uma peça importante para o equilíbrio geopolítico com a União Europeia, América Latina e bacia do Pacífico.*
- A região circundada no mapa é o nordeste americano, principal região urbano-industrial dos Estados Unidos. Área onde começou o povoamento do país, a mais populosa e povoada e com importantes recursos naturais, tais como terra, nos Grandes Lagos, e carvão, nos Apalaches.*

QUESTÃO 5

Considere o texto abaixo para responder à questão.

O que houve em Canudos e continua a acontecer hoje, no campo como nas grandes cidades brasileiras, foi o choque do Brasil “oficial e mais claro” com o Brasil “real e mais escuro” (...). Euclides da Cunha, formado, como todos nós, pelo Brasil oficial, de repente, ao chegar ao sertão, viu-se ofuscado pelo Brasil real de Antônio Conselheiro e seus seguidores. Sua intuição de escritor de gênio e seu nobre caráter de homem de bem colocaram-no imediatamente ao lado do Conselheiro, para honra e glória do escritor. De modo que, entre outros erros e contradições, só lhe ocorreu, além da corajosa denúncia do crime, pregar uma “modernização” que consistiria, finalmente, em conformar o Brasil real pelos moldes do Brasil oficial. Isto é, uma modernização falsificadora e falsa, que, como a que estão tentando fazer agora, é talvez pior do que uma invasão declarada. Esta apenas destrói e assola, enquanto a falsa modernização, no campo como na cidade, descaracteriza, assola, destrói e avilta o povo do Brasil real.

Ariano Suassuna. **Folha de S. Paulo**, 30/11/1999. Adaptado.

- a) Identifique e explique dois elementos da questão agrária brasileira contemporânea que justificam a expressão “falsa modernização no campo”.
- b) Descreva uma característica comum entre o movimento de Canudos e os movimentos sociais que atuam no campo brasileiro na atualidade.

Resposta

- a) Em primeiro lugar, é preciso reconhecer que “a questão agrária brasileira contemporânea” é muito diferente do contexto de Canudos. Em segundo, a noção de “falsa modernização do campo,” identificada como criminosa pela ação do “Brasil oficial” em relação a um “Brasil real,” é típica da visão maniqueísta que pretende que o candidato aponte como elementos o latifúndio e o coronelismo, característico do Sertão nordestino e generalizado para todo o Brasil.
- b) Como decorrência da mesma visão, o examinador quer que o candidato aponte como característica comum a questão dos sem-terras, das invasões e dos conflitos fundiários no campo e nas cidades.

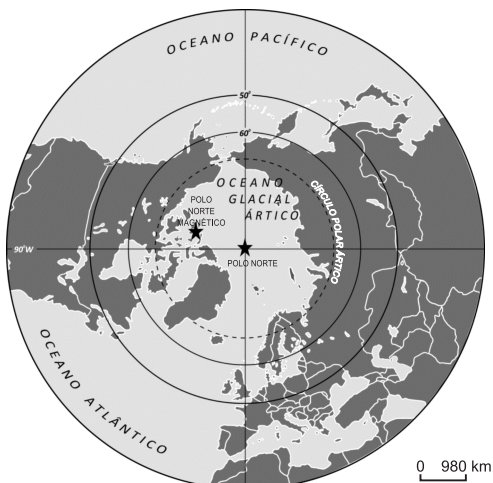
- a) Aponte, sobre a região ártica, um interesse geoeconômico, indicando três países nele envolvidos.
- b) Explique a ocorrência de um impacto ambiental relacionado a uma importante atividade econômica desenvolvida nessa região.

Resposta

- a) Entre os interesses geoeconômicos destacam-se: a abertura de uma nova rota comercial e a exploração de recursos naturais (minerais e energéticos). Entre os países podemos destacar: EUA, Canadá, Rússia, Dinamarca e Noruega.
- b) O impacto ambiental que se destaca na região do Ártico é a poluição das águas oceânicas, relacionada à exploração e ao transporte de petróleo.

QUESTÃO 6

Observe o mapa a seguir.



Atlas Geográfico Escolar. IBGE, 2012.